



ASSEMBLÉIA LEGISLATIVA  
DO ESTADO DE MINAS GERAIS

## CONCURSO PÚBLICO

Edital n. 01/2007 – ALMG

# ANALISTA LEGISLATIVO ENGENHEIRO DE TELECOMUNICAÇÕES

Código 225

---

**SÓ ABRA QUANDO AUTORIZADO.**

---

Este caderno contém a **Prova Objetiva** abrangendo **Língua Portuguesa, Noções de Direito e Conhecimentos Específicos.**

Use como rascunho a **Folha de Respostas** reproduzida no final deste caderno.

Ao receber a **Folha de Respostas**:

- confira seu nome, número de inscrição e cargo de opção;
- assine, **A TINTA**, no espaço próprio indicado.

	A	B	C	D
01	<input type="checkbox"/>	<input type="checkbox"/>	<input type="checkbox"/>	<input type="checkbox"/>
02	<input type="checkbox"/>	<input type="checkbox"/>	<input type="checkbox"/>	<input type="checkbox"/>
03	<input type="checkbox"/>	<input type="checkbox"/>	<input type="checkbox"/>	<input type="checkbox"/>
04	<input type="checkbox"/>	<input type="checkbox"/>	<input type="checkbox"/>	<input type="checkbox"/>

Ao transferir as respostas para a **Folha de Respostas**:

- use apenas **caneta esferográfica azul ou preta**;
- preencha, sem forçar o papel, toda a área reservada à letra correspondente à resposta solicitada em cada questão;
- assinale somente **uma alternativa** em cada questão. Sua resposta não será computada se houver marcação de mais de uma alternativa, questões não assinaladas ou questões rasuradas.

**NÃO DEIXE NENHUMA QUESTÃO SEM RESPOSTA.**

A **Folha de Respostas** não deve ser dobrada, amassada ou rasurada.  
**CUIDE BEM DELA, ELA É A SUA PROVA.**

No período estabelecido para a realização da prova, está incluído o tempo necessário à transcrição das respostas do rascunho para a **Folha de Respostas**.

**ATENÇÃO:** Nos termos do Edital n. 01/2007-ALMG, "Será eliminado do concurso o candidato que [...] portar arma no local de realização das provas [...] portar ou fazer uso de quaisquer equipamentos eletrônicos e/ou instrumentos de comunicação [...] celular [...] ou outros similares [...]" (subitem 8.2, alíneas "f" e "g").

---

**DURAÇÃO TOTAL DA PROVA: QUATRO HORAS**

---



Fundação de  
Desenvolvimento  
da Pesquisa

# ATENÇÃO

Senhor(a) Candidato(a),

Antes de começar a fazer a prova, confira se este caderno contém, ao todo, **60 (sessenta) questões de múltipla escolha — 20 (vinte) questões de Língua Portuguesa, 10 (dez) questões de Noções de Direito e 30 (trinta) questões de Conhecimentos Específicos —**, cada uma constituída de **4 (quatro) alternativas**, das quais apenas **uma** responde corretamente ao que é solicitado em cada questão.

Havendo algum problema, informe-o ***imediatamente*** ao Aplicador de Provas, para que ele tome as providências necessárias.

Caso V.Sa. não observe essa recomendação, ***não lhe caberá qualquer reclamação ou recurso posteriores.***

## ➤ Língua Portuguesa

**INSTRUÇÃO:** As questões de 01 a 06 relacionam-se com o **texto I**. Leia-o com atenção antes de responder a elas.

### Texto I

## Falta de educação e velocidade

Lya Luft

Os anjos da morte estão cansados de nos recolher, a nós que nos matamos ou somos assassinados no tráfego das estradas, cidades, esquinas deste País. Os anjos da morte estão exaustos de pegar restos de vidas botadas fora. Os anjos da morte andam fartos de corpos mutilados e almas atônitas. Os anjos da morte

5 suspiram por todo esse desperdício. Não sei se as propagandas que tentam aos poucos aliviar essa tragédia ajudam tanto a preservar vidas quanto as intermináveis, ricas e coloridas propagandas de cerveja ajudam a beber mais e mais e mais, colaborando para uma parte dessa carnificina. Mas sei que estou no limite. [...]

10 Atenção: os jovens são — em geral, mas não sempre — mais arrojadados, mais imprudentes, têm menos experiência na direção. Portanto, são mais inclinados a acidentes, bobos ou fatais, em que a gente mata e morre. Mas há um número impressionante de adultos — mais homens do que mulheres, diga-se de passagem, porque talvez sejam biologicamente mais agressivos — cometendo loucuras ao

15 dirigir, avançando o sinal, quase empurrando o veículo da frente com seu pára-choque, não cedendo passagem, ultrapassando em locais absurdos sem a menor segurança, bebendo antes de dirigir, enfim, usando o carro como um punhal hostil ou um falo frustrado. Cada um se porta como quer — ou como consegue. Isso vem do caráter inato, combinado com a educação recebida em casa. Quando esse comportamento ultrapassa o convívio cotidiano e pode mutilar pais de família, filhos

20 e filhas amados, amigos preciosos, ou seja lá quem for, então é preciso instaurar leis férreas e punições comparáveis. Que não permitam escapadelas nem facilitem cometer a infração com branda cobrança. Que não admitam desculpas e subterfúgios, não premiem o erro, não pequem por uma criminosa omissão. Precisamos em quase tudo de autoridade e respeito, para que haja uma reforma

25 generalizada, passando da desordem e do caos a algum tipo de segurança e bem-estar. [...] Autoridade justa, mas muito rigorosa, é o que talvez nos deixe mais lúcidos e mais bem-educados: em casa, na escola, na rua, na estrada, no bar, no clube, dentro do nosso carro. E os fatigados anjos da morte poderão, se não entrar em férias, ao menos relaxar um pouco.

LUFT, Lya. Falta de educação e velocidade. *Revista Veja*. Ed. 2.048, ano 41, n. 7, 20 fev. 2008. p. 20 (Texto adaptado).

### Questão 01

Atente para o início do texto (linhas 1 a 5).

Sobre esse fragmento, afirma-se:

- I. O efeito de sentido pretendido com a repetição de determinado termo é o de provocar revolta.
- II. A afirmação da autora de que “[...] nós [...] nos matamos ou somos assassinados no tráfego [...]” constitui um paradoxo.
- III. Com a expressão “os anjos da morte”, a cronista tenta construir uma leitura pessimista do papel que desempenham os profissionais da saúde em foco.
- IV. Com a seqüência estradas/cidades/esquinas, Luft evidencia o caráter genérico do problema a que se refere.

Estão em **DESACORDO** com o texto lido as afirmações

- A) I e II.
- B) II e IV.
- C) I e III.
- D) III e IV.

### Questão 02

O texto I revela, em seu desenvolvimento, a seguinte estrutura:

- A) desenvolvimento de uma seqüência narrativa; formulação de tese inspirada nos fatos dessa narrativa; reiteração e expansão da tese inicial.
- B) formulação de uma tese; refutação dessa tese por meio de uma narrativa; formulação de uma nova tese inspirada pela narrativa.
- C) segmento narrativo introdutório; desenvolvimento da narrativa; formulação de uma hipótese inspirada nos fatos narrados.
- D) formulação de uma tese; ilustração dessa tese por meio de uma narrativa.

### Questão 03

No fragmento “Isso vem do caráter inato, combinado com a educação recebida em casa.”, (linhas 17 e 18) o elemento coesivo destacado retoma a informação de

- A) haver mais homens do que mulheres envolvidos em acidentes de trânsito.
- B) muitos usarem o carro como “punhal hostil ou falo frustrado”.
- C) um número considerável de adultos cometer loucuras ao dirigir.
- D) cada um se comportar, no trânsito, conforme sua vontade e capacidade.

#### Questão 04

Atente para os elementos sublinhados nos fragmentos abaixo.

- “Quando esse comportamento ultrapassa o convívio cotidiano e pode mutilar pais de família [...]” (linhas 18-19)
- “Atenção: os jovens são — em geral, mas não sempre — mais arrojados, mais imprudentes, [...]” (linhas 9-10)
- “Os anjos da morte suspiram por todo esse desperdício.” (linhas 4-5)

Sobre eles, assinale a informação **INCORRETA**.

- A) São elementos de coesão, que ajudam a instaurar a coerência nos locais em que foram inseridos.
- B) Têm natureza vocabular, sendo portadores de um sentido potencial, o qual independe do fato de substituírem algum elemento textual.
- C) Apresentam caráter retroativo, pois retomam elemento ou idéia previamente apresentado(a).
- D) São itens gramaticais e, não, de vocabulário cujo sentido é contextualmente instituído.

#### Questão 05

“E os fatigados anjos da morte poderão, se não entrar em férias, ao menos relaxar um pouco.” (linhas 28-29)

Assinale a alternativa em que se encontra uma substituição adequada, sem alteração de sentido.

- A) Portanto, os fatigados anjos da morte poderão, desde que relaxem um pouco, pelo menos sentir-se em férias.
- B) Os fatigados anjos da morte, ainda que não possam entrar em férias, no mínimo, poderão relaxar um pouco.
- C) Os fatigados anjos da morte poderão relaxar um pouco, porquanto não possam sair de férias.
- D) Contanto que possam relaxar um pouco, os fatigados anjos da morte não poderão sair de férias.

## Questão 06

Assinale a alternativa **INCORRETA** a respeito do uso do que.

- A) “Não sei se as propagandas que tentam aos poucos aliviar essa trajetória ajudam tanto a preservar vidas [...]” (linhas 5-6) [Introduz uma oração que completa o sentido da palavra propagandas.]
- B) “[...] mais inclinados a acidentes, bobos ou fatais, em que a gente mata e morre.” (linhas 10-11) [Expressa a idéia de advérbio de lugar.]
- C) “Que não permitam escapadelas nem facilitem cometer a infração [...]” (linhas 21-22) [Refere-se à expressão anterior “leis férreas e punições”.]
- D) “[...] é o que talvez nos deixe mais lúcidos [...]” (linhas 26-27) [Expressa a idéia de consequência.]

**INSTRUÇÃO:** As questões de **07** a **10** relacionam-se com o **texto II**.

## Texto II

MEDIDA PROVISÓRIA n. 415, DE 21 DE JANEIRO DE 2008.

Proíbe a comercialização de bebidas alcoólicas em rodovias federais e acresce dispositivo à Lei n. 9.503, de 23 de setembro de 1997 — Código de Trânsito Brasileiro.

### Regulamento

O PRESIDENTE DA REPÚBLICA, no uso da atribuição que lhe confere o art. 62 da Constituição, adota a seguinte Medida Provisória, com força de lei:

Art. 1º São vedados, na faixa de domínio de rodovia federal ou em local contíguo à faixa de domínio com acesso direto a rodovia, a venda varejista e o oferecimento para consumo de bebidas alcoólicas.

§ 1º A violação do disposto no caput implica multa de R\$ 1.500,00 (mil e quinhentos reais).

§ 2º Em caso de reincidência, a multa será aplicada em dobro e suspensa a autorização para acesso a rodovia pelo prazo de dois anos.

Art. 2º O estabelecimento comercial situado na faixa de domínio de rodovia federal ou em local contíguo à faixa de domínio com acesso direto a rodovia que inclua entre suas atividades a venda ou o fornecimento de bebidas ou alimentos deverá fixar, em local de ampla visibilidade, aviso indicativo da vedação de que trata o art. 1º.

Parágrafo único. O descumprimento do disposto no caput implica multa de R\$ 300,00 (trezentos reais).

Art. 3º Compete à Polícia Rodoviária Federal a fiscalização e a aplicação das multas previstas nos arts. 1º e 2º.

Parágrafo único. Configurada a reincidência, a Polícia Rodoviária Federal comunicará o Departamento Nacional de Infra-Estrutura de Transportes (DNIT) para aplicação da penalidade de suspensão da autorização para acesso a rodovia.

Art. 4º Para os efeitos desta Medida Provisória, entende-se por bebidas alcoólicas as bebidas potáveis que contenham álcool em sua composição, com grau de concentração igual ou acima de meio grau Gay-Lussac.

Art. 5º O art. 10 da Lei n. 9.503, de 23 de setembro de 1997 - Código de Trânsito Brasileiro, passa a vigorar acrescido do seguinte inciso:

“XXIII - um representante do Ministério da Justiça.” (NR)

Art. 6º As pessoas físicas e jurídicas terão até 31 de janeiro de 2008 para se adequar ao disposto nos arts. 1º e 2º.

Art. 7º Esta Medida Provisória entra em vigor na data de sua publicação.

Brasília, 21 de janeiro de 2008; 187º da Independência e 120º da República.

### Questão 07

O Manual de Redação Parlamentar da Assembléia Legislativa de Minas Gerais, no item *Proposições do Processo Legislativo*, explicita a natureza e a estrutura adequadas a um texto legal. À página 43, esclarece:

“O texto legal deve buscar sempre a clareza e a precisão, a fim de evitar conflitos de interpretação.”

No texto da Medida Provisória n. 415, atente para o artigo 1º e seus dois parágrafos. Nele há infrações a essa regra básica de redação, que podem, portanto, gerar “conflito de interpretação”.

As causas dos possíveis problemas redacionais foram corretamente evidenciadas abaixo, **EXCETO** em:

- A) “... o oferecimento para consumo de bebida alcoólica [...]” [há ambigüidade potencial da nominalização, utilizada em vez do verbo correspondente].
- B) “São vedados [...] a venda varejista e o oferecimento [...]” [a concordância nominal inadequada provoca dificuldade ao leitor em recuperar a informação equivalente].
- C) “[...] autorização para acesso a rodovia [...]” [a ausência de especificação do elemento “rodovia” provoca efeito genérico, inadequado, visto que ocorre retomada do mesmo item existente no Art. 1º].
- D) “A violação do disposto no *caput* implica multa [...]” [neste segmento, o termo “o disposto” é potencialmente ambíguo].

### Questão 08

No artigo 2º, transcrito a seguir, infringe-se novamente o princípio básico mencionado anteriormente.

“Art. 2º O estabelecimento comercial situado na faixa de domínio de rodovia federal ou em local contíguo à faixa de domínio com acesso direto a rodovia que inclua entre sua atividade a venda ou o fornecimento de bebidas ou alimentos deverá fixar, em local de ampla visibilidade, aviso indicativo da vedação de que trata o art. 1º”

O problema textual detectado, o qual provoca dubiedade de interpretação, é provocado pelo(a)

- A) transformação inadequada de uma frase em um nome.
- B) regência incorreta de item relativo a um nome.
- C) pontuação inadequada de termo intercalado.
- D) forma indevida de uso de orações que se iniciam com pronomes relativos.

### Questão 09

O Manual de Redação Parlamentar da ALMG apresenta regras a serem observadas para estruturação e padronização do texto legal.

Considerando-se o que o manual preceitua, afirma-se, em relação ao texto II, que:

- I. O vocábulo *caput*, considerado estrangeirismo, deveria ter sido grafado em itálico ou aparecer destacado por aspas.
- II. Os artigos (abreviadamente, “Art.”) deveriam ser seguidos de numerais cardinais até 9 (nove) e ordinais a partir do 10º, ao passo que, na indicação dos parágrafos, verificasse o oposto.
- III. Após a expressão “parágrafo único”, deveriam aparecer dois pontos e o texto iniciar-se por letra minúscula.
- IV. Os artigos deveriam vir separados do texto por travessões, entre espaços em branco.

Estão **CORRETAS** as afirmações

- A) I e II.
- B) II e III.
- C) III e IV.
- D) I e IV.



## Questão 10

Considere o artigo transcrito:

“Art. 4º Para os efeitos desta Medida Provisória, entende-se por bebidas alcoólicas as bebidas potáveis que contenham álcool em sua composição, com grau de concentração igual ou acima de meio grau Gay-Lussac.”

Assinale a alternativa **INCORRETA** a respeito da redação do artigo em foco.

- A) Não há informatividade suficiente, uma vez que a remissão a conhecimentos textuais e extra-lingüísticos prévios tornam-no opaco.
- B) A conceituação do termo “bebida alcoólica” (metalinguagem) traz uma informação redundante.
- C) Segundo regras de redação de textos legais, a fim de se obterem efeitos de concisão e simplicidade, o termo “bebidas”, na segunda ocorrência, deveria vir substituído por termo sinônimo.
- D) A eliminação da primeira ocorrência da palavra “grau” poderia ser realizada, sem prejuízo à compreensão do enunciado.

**INSTRUÇÃO:** As questões de 11 a 15 relacionam-se com o **texto III**. Leia-o com atenção antes de responder a elas.

## Texto III

### Medida Provisória 415 – polêmica alcoólica

Marcelo José Araújo

A Medida Provisória 415 que proíbe a comercialização e o oferecimento de bebidas alcoólicas na faixa de domínio de rodovia federal ou em local contíguo à faixa de domínio tem gerado muitas controvérsias jurídicas e práticas. Antes de continuar o comentário, se faz necessário deixar claro que é inegável que ações que venham a inibir a ingestão de bebidas alcoólicas por condutores de veículos são necessárias, e que nesse sentido a intenção é boa... A primeira avaliação a ser feita é se o instrumento legal da Medida Provisória guarda legitimidade para regular a matéria, pois pela Constituição Federal sua edição só se justificaria por relevância e urgência da matéria a ser tratada, e não nos parece ser o caso. Ou seria a proximidade do Carnaval? Mas poderia ter sido antes do Natal, do Ano Novo, da temporada de verão [...]

A abrangência das proibições é por demais ampla e capaz de atingir as mais diversas atividades, comerciais ou não. Oferecimento de bebida alcoólica pode ser até daquele morador da margem da rodovia que oferece uma cervejinha ao seu vizinho, pois não está limitado apenas à comercialização. Coitado do padre cuja

Igreja estiver na margem da rodovia na hora de ingerir o conteúdo do Santo Cálice. O hóspede de um hotel não poderá jantar e apreciar um vinho antes do repouso. Num universo infinito de consumidores de bebidas alcoólicas, os motoristas são apenas um deles e todos os demais estariam sofrendo as restrições ao consumo mesmo sem serem condutores de veículos. Se todos os passageiros de um ônibus quiserem ingerir bebidas alcoólicas, produto lícito, não há problema algum. Dessa forma, parte do efetivo da Polícia Rodoviária Federal está sendo usado para restringir o comércio e oferta da bebida alcoólica para um público em geral, em detrimento da atividade de fiscalização específica de motoristas que estejam conduzindo e tenham ingerido bebida alcoólica.

A fiscalização como dissemos ficou a cargo da Polícia Rodoviária Federal, que poderá aplicar multas de R\$ 1.500,00 pela venda ou oferecimento do precioso líquido, R\$ 3.000,00 na reincidência e, nesse caso, informará ao DNIT para proibir o acesso ao estabelecimento por um período de dois anos.

Excerto de texto. ARAÚJO, Marcelo José. *Medida provisória 415 – polêmica alcoólica*. (Disponível em: [http:// <www.juristas.com.br>](http://www.juristas.com.br) Acesso em: 16 fev. 08)

### Questão 11

Atente para o primeiro parágrafo do artigo de opinião.

Nele, utilizam-se estratégias de persuasão explicitadas abaixo, **EXCETO**

- A) interpelação ao leitor, pela apresentação de pergunta retórica.
- B) uso de linguagem predominantemente conotativa.
- C) posicionamento do autor por meio de uso de adjetivos e seleção de marcas que expressem sua opinião.
- D) uso contextualizado de termos específicos do jargão jurídico.

### Questão 12

“A Medida Provisória 415 que proíbe a comercialização e o oferecimento de bebidas alcoólicas na faixa de domínio de rodovia federal ou em local contíguo à faixa de domínio tem gerado muitas controvérsias jurídicas e práticas.” (linhas 1-3)

No fragmento tem-se, do ponto de vista da norma padrão, um erro, que pode gerar interpretação inadequada.

Tal erro consiste em

- A) ausência de paralelismo entre partes da oração.
- B) ausência de pontuação adequada.
- C) regência verbal ou nominal inadequada.
- D) correlação indevida de tempos verbais.

### Questão 13

Considere o fragmento de texto abaixo.

“Num universo infinito de consumidores de bebidas alcoólicas os motoristas são apenas um deles e todos os demais estariam sofrendo as restrições ao consumo mesmo sem serem condutores de veículos.” (linhas 18-20)

Nele, notam-se as seguintes falhas textuais que comprometem a inteligibilidade do trecho.

- I. Estabelecimento inadequado de retomada de termo anterior.
- II. Presença de construção repetida, desnecessária.
- III. Uso inadequado de conectivos lingüísticos.
- IV. Concordância inadequada de verbo no infinitivo.

As falhas textuais foram identificadas **corretamente** nos itens

- A) I e II.
- B) II e III.
- C) III e IV.
- D) I e IV.

### Questão 14

Considere o seguinte período.

“Oferecimento de bebida alcoólica pode ser até daquele morador da margem da rodovia que oferece uma cervejinha ao seu vizinho, pois não está limitado apenas à comercialização.” (linhas 13-15)

Em relação ao uso do termo sublinhado, podemos concluir que

- A) potencializa a força argumentativa presente na hipótese de, com a vigência da MP 415, gestos simples do cotidiano serem injustamente demonizados.
- B) reforça a idéia de que a Medida Provisória é a única forma de controlar o consumo de bebidas alcoólicas, independentemente de serem vendidas ou oferecidas.
- C) orienta o leitor para a conclusão devidamente explicitada de que tanto a venda quanto a oferta de bebidas alcoólicas serão consideradas como crimes.
- D) aponta para o leitor que a proibição de comercialização e oferecimento de bebidas alcoólicas abrangem diversas atividades e moradores de qualquer região.

### Questão 15

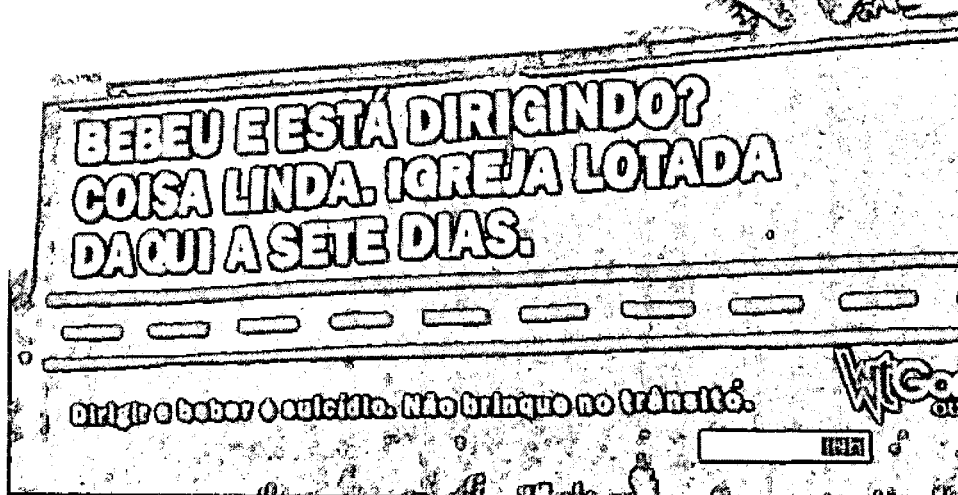

"A fiscalização como dissemos ficou a cargo da Polícia Rodoviária Federal, que poderá aplicar multas de R\$ 1.500,00 pela venda ou oferecimento do precioso líquido, R\$ 3.000,00 na reincidência e nesse caso informará ao DNIT para proibir o acesso ao estabelecimento por um período de dois anos." (linhas 26-29)

O uso do termo sublinhado aponta que o enunciado:

- A) se apresenta como um requisito a ser necessariamente cumprido.
- B) se refere, especificamente, a uma ação, considerada incontestável.
- C) se trata de uma orientação de cunho, decididamente, obrigatório.
- D) se relaciona a uma tarefa que perde o sentido de obrigatoriedade.

**INSTRUÇÃO:** As questões 16 e 17 relacionam-se com o **texto IV**. Leia-o com atenção antes de responder a elas.

### Texto IV



### Questão 16

Analise os painéis de recente campanha de trânsito na cidade de Salinas/MG (texto IV) e avalie as considerações sobre eles.

Após a análise, assinale a afirmativa **INCORRETA**.

- A) Os recursos verbais e não-verbais revestem-se de efeito apelativo e, simultaneamente, instrutivo.
- B) O recurso ao humor, apesar da gravidade do tema em foco, é estratégia de persuasão recorrente nesta campanha — essa aparente contradição se condensa no *slogan* “Não brinque no trânsito”.
- C) No segundo painel, nota-se remissão a determinado comportamento religioso específico de apenas uma parcela da população brasileira.
- D) A afirmação de que “dirigir e beber é suicídio” é exagerada e contraria a legislação, visto que não há intencionalidade de se matar, o que enfraquece esse argumento.

### Questão 17

Atente para as seguintes afirmações sobre os painéis reproduzidos e assinale a **INCORRETA**.

- A) No plano da linguagem não-verbal, a representação da estrada por linhas retas (e não curvas) e pontilhadas (em vez de faixas contínuas), permite ao motorista questionar a argumentação sobre a gravidade da associação dirigir / beber.
- B) O elemento coesivo “e” ora assume função de indicar contradição (“Bebeu e está dirigindo?”), ora de adição (“Dirigir e beber é suicídio”).
- C) O nexos “mas”, no primeiro painel, instaura um tom de interlocução informal, próxima, entre enunciador e enunciatário.
- D) Os segmentos curtos (orações absolutas ou frases nominais), marcados por pontuação, facilitam a leitura, dada a especificidade do suporte e o local de circulação.

### Questão 18

Ao compararmos os aspectos formais e conceituais dos textos I, II, III e IV, deduz-se que:

- I. A diferença formal, lingüística e textual entre eles se deve ao contexto de produção no qual se inserem e aos suportes nos quais são veiculados.
- II. A formalidade dos textos I e II e a informalidade do texto III expressam a relação entre público-alvo, intenção pretendida e contexto de circulação.
- III. Os textos I e III caracterizam-se pela variedade padrão, sendo que no texto I predomina a variedade culta formal e no texto III, a variedade culta informal.
- IV. A falta de sintaxe dos textos III e IV acontece pelo fato de eles não serem direcionados a um público-alvo específico, já que esses suportes não têm interlocutor definido.

São **CORRETAS**

- A) apenas as afirmativas I e II.
- B) apenas as afirmativas I, II e III.
- C) apenas as afirmativas II e III.
- D) todas as afirmativas.

### Questão 19

Assinale a alternativa que **NÃO** condiz com os efeitos de sentido produzidos pelos textos apresentados.

- A) O texto I, por intermédio de uma linguagem subjetiva, denuncia e critica a inoperância de leis que deveriam garantir os direitos dos cidadãos.
- B) O texto IV prescreve condutas de ação por meio de um jogo intertextual com outros textos que circulam na sociedade.
- C) O texto III, pelo seu caráter opinativo, dialoga com o texto II, posicionando-se, ora favoravelmente, ora desfavoravelmente, aos objetivos pretendidos pela Medida Provisória.
- D) Os textos I, II, III e IV, ainda que dirigidos a diferentes interlocutores e com circulação em diferentes espaços, se prestam a um mesmo objetivo.

### Questão 20

O fato de algumas pessoas dirigirem depois de ingerirem álcool deve ser visto \_\_\_\_\_ um prisma crítico, principalmente aquelas irresponsabilidades \_\_\_\_\_ conseqüências levam \_\_\_\_\_ morte delas ou de outrem. As autoridades precisam discutir \_\_\_\_\_ isso acontece.

Preenchem de modo **correto** as lacunas acima, respectivamente,

- A) em nível de / cujas / a / porque.
- B) por / cujas / à / porque.
- C) sob / cujas / à / por que.
- D) sobre / cujas / a / por quê.

## ➤ Noções de Direito

### Questão 21

Relativamente à sociedade e à formação do Estado, é **CORRETO** afirmar

- A) que a criação de um novo Estado depende necessariamente do reconhecimento pelos demais Estados.
- B) que as famílias, antigas tribos e clãs, oriundas de um processo espontâneo não são consideradas sociedades políticas.
- C) que, entre as várias espécies de sociedades políticas, a de maior importância e amplitude é o Estado.
- D) que o fracionamento e a união de Estados são processos incluídos na chamada formação originária dos Estados.

### Questão 22

As idéias no sentido de que a soberania não tem prazo certo de duração e aspira a existir permanentemente identificam e reconhecem na soberania a característica da

- A) exclusividade.
- B) imprescritibilidade.
- C) inalienabilidade.
- D) originalidade.

### Questão 23

Quanto ao federalismo adotado no Brasil, é **CORRETO** afirmar que

- A) a União é composta pelo conjunto das entidades federativas, equivalendo, conceitualmente, ao Estado Federal.
- B) a autonomia dos Estados-membros, assim como a dos Municípios, configura-se pela tríplice capacidade de auto-organização e normatização próprias, autogoverno e auto-administração.
- C) o princípio da indissolubilidade do vínculo federativo impede a modificação da divisão político-administrativa interna da Federação brasileira.
- D) trata-se do regime de governo adotado no Brasil desde a Constituição de 1891.



### Questão 24

Sobre os elementos constitutivos do Estado, assinale a afirmativa **INCORRETA**.

- A) A afirmação e o tratamento teórico sistemático da soberania ocorreram no século XVI, passando-se a reconhecer aquele elemento como nota característica do Estado Moderno.
- B) A perda temporária do território não desnatura o Estado, que continua a existir enquanto não se tornar definitiva a impossibilidade de se reintegrar o território com os demais elementos do Estado.
- C) Embora na sua origem histórica a soberania tenha sido concebida com índole exclusivamente política, já se reconhece, no presente, sua natureza jurídica.
- D) Povo, população e nação são termos considerados sinônimos, porquanto identificam, indiferentemente, o elemento ou substrato humano do Estado.

### Questão 25

Considere a seguinte situação.

Fora do horário de serviço e para fins exclusivamente particulares, servidor público estatutário utiliza-se de veículo público e, guiando alcoolizado, envolve-se em acidente que causa a morte de outro motorista.

Na hipótese, o servidor poderá responder

- A) administrativa e civilmente, apenas.
- B) administrativa, civil e penalmente.
- C) civil e penalmente, apenas.
- D) penalmente, apenas.

### Questão 26

Considere a seguinte notícia divulgada pelos meios de comunicação.

Em 12/02/08, tomou posse, em Recife, como Superintendente da SUDENE, o Engenheiro Paulo Fontana. A autarquia que foi recriada em 2002, após ser extinta no governo Fernando Henrique Cardoso, é ligada ao Ministério da Integração Nacional.

Sobre a entidade a que se refere o texto, é **INCORRETO** afirmar que

- A) integra a administração indireta.
- B) possui patrimônio próprio, sendo impenhoráveis os seus bens.
- C) se submete hierarquicamente ao Ministério ao qual se vincula.
- D) se submete aos princípios da obrigatoriedade da licitação e de concurso público.

### Questão 27

**NÃO** constitui proposição do processo legislativo no âmbito da Assembléia Legislativa do Estado de Minas Gerais

- A) a proposta de emenda à Constituição.
- B) o projeto de decreto legislativo.
- C) o projeto de lei complementar.
- D) o projeto de resolução.

### Questão 28

Trata-se de modalidade de licitação cuja escolha pela Administração Pública dá-se em função do valor estimado da contratação

- A) o concurso.
- B) o convite.
- C) o leilão.
- D) o pregão.

### Questão 29

O princípio específico da licitação pública, segundo o qual a Administração Pública não pode, encerrado o procedimento licitatório, atribuir o objeto da licitação a outra pessoa que não o vencedor do certame, é denominado princípio do(a)

- A) adjudicação compulsória.
- B) julgamento objetivo.
- C) procedimento formal.
- D) vinculação ao edital.

### Questão 30

Sobre a Comissão Parlamentar de Inquérito no âmbito da Assembléia Legislativa do Estado de Minas Gerais, é **CORRETO** afirmar que ela

- A) pode declarar a perda de mandato no caso de perda dos direitos políticos de Deputado Estadual que a integre.
- B) pode, por deliberação de seus membros, deslocar-se das dependências da Assembléia Legislativa para tomar depoimento de indiciado ou testemunha.
- C) tem poderes de investigação e julgamento próprios das autoridades judiciárias, além de outros previstos no Regimento Interno.
- D) tem prazo de 120 (cento e vinte) dias passível de prorrogação por igual período.

## ➤ Conhecimentos Específicos

### Questão 31

Os números decimais a seguir estão representados em diversas bases de numeração.

Indique a resposta que corresponde à conversão de bases **INCORRETA**.

A)  $28_{10} = 11100_2$

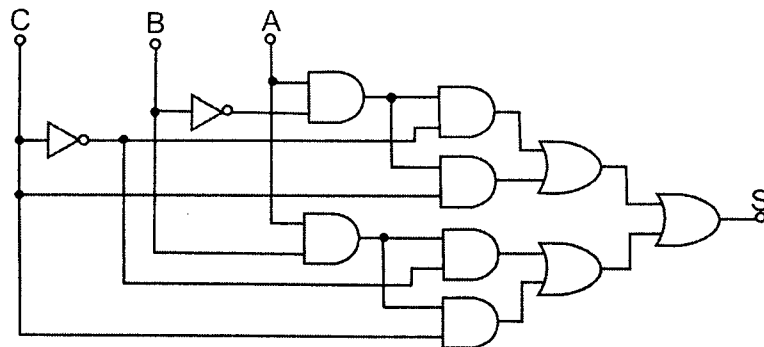
B)  $35_{10} = 23_{16}$

C)  $35_{10} = 43_8$

D)  $160_{10} = B0_{16}$

### Questão 32

Observe o seguinte circuito.



A função de transferência para esse circuito pode ser escrita como

A)  $S = A$

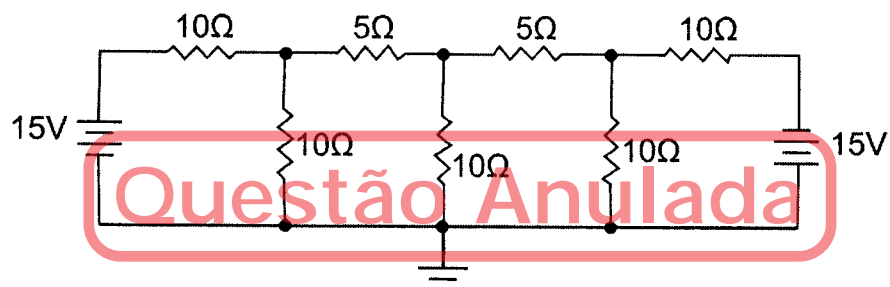
B)  $S = A \cdot \bar{B} \cdot C$

C)  $S = (A \cdot B) + (\bar{B} \cdot C)$

D)  $S = A + (\bar{B} \cdot \bar{C})$

### Questão 33

Observe o seguinte circuito.

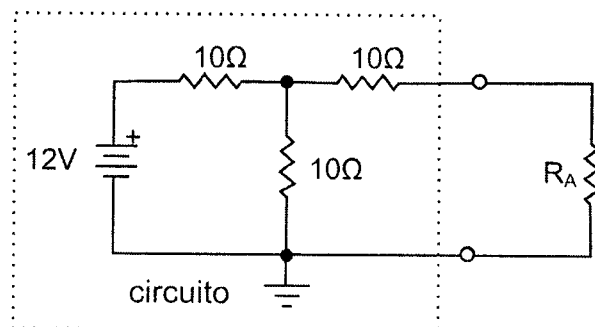


Nesse circuito, o valor da corrente  $I_1$  será

- A) 0,0 A
- B) 1,0 A
- C) 1,5 A
- D) 2,0 A

### Questão 34

Observe o seguinte circuito.

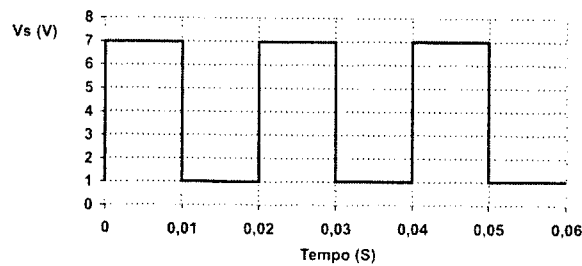


Nesse circuito, o valor da resistência  $R_A$  para se obter a maior transferência de energia é

- A) 3,33  $\Omega$
- B) 10  $\Omega$
- C) 15  $\Omega$
- D) 30  $\Omega$

### Questão 35

Observe o seguinte gráfico.

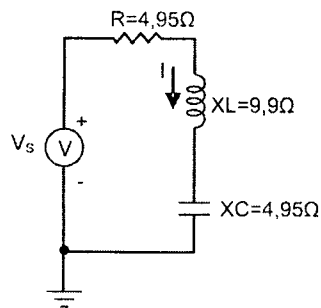


O valor da tensão eficaz para a forma de onda de tensão  $V_s$  mostrada no gráfico é

- A) 1,0 V
- B) 4,0 V
- C) 5,0 V
- D) 7,0 V

### Questão 36

Observe o seguinte circuito.

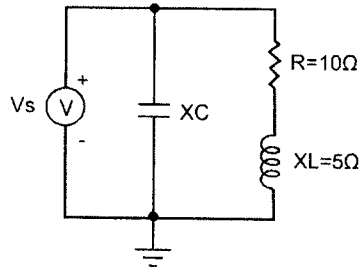


Nesse circuito, sabendo que a tensão eficaz de alimentação tem um valor de  $V_s = 21\text{ V} \angle 0^\circ$ , podemos afirmar que a sua potência ativa é

- A) 14,85 W
- B) 44,55 W
- C) 49,00 W
- D) 63,00 W

### Questão 37

Observe o seguinte circuito.

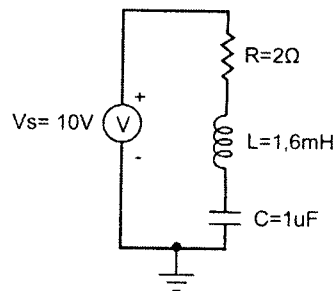


Para se obter um fator de potência unitário nesse circuito, o valor da reatância do capacitor  $X_C$  será

- A)  $X_C = 10 \Omega$
- B)  $X_C = 15 \Omega$
- C)  $X_C = 25 \Omega$
- D)  $X_C = 40 \Omega$

### Questão 38

Observe o seguinte circuito.

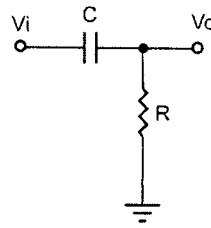


O valor do fator de qualidade para esse circuito será

- A)  $Q = 5$
- B)  $Q = 10$
- C)  $Q = 20$
- D)  $Q = 40$

### Questão 39

Observe o seguinte circuito.

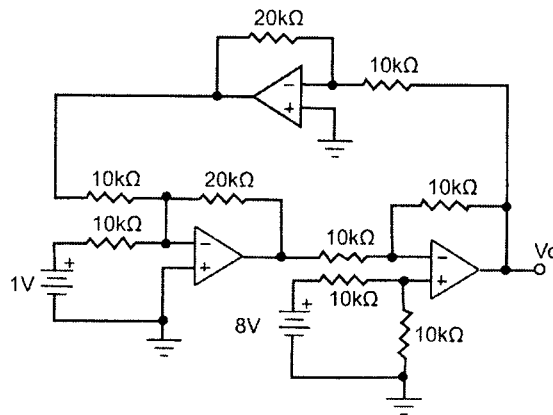


A função de transferência para esse circuito é

- A)  $A(s) = s/(s + (1/RC))$
- B)  $A(s) = 1/(s + (1/RC))$
- C)  $A(s) = s/(s + RC)$
- D)  $A(s) = 1/(s + RC)$

### Questão 40

Observe o seguinte circuito com Amplificador Operacional.



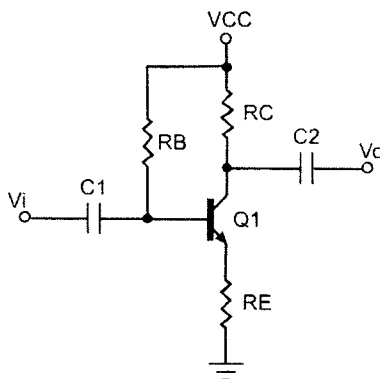
Considerando condições ideais, o valor da tensão de saída,  $V_o$ , nesse circuito será

- A) 2,0 V
- B) -2,0 V
- C) 4,0 V
- D) -4,0 V

### Questão 41

Observe o seguinte amplificador.

Existem quatro tipos de realimentação que são utilizados no controle das características dos amplificadores.

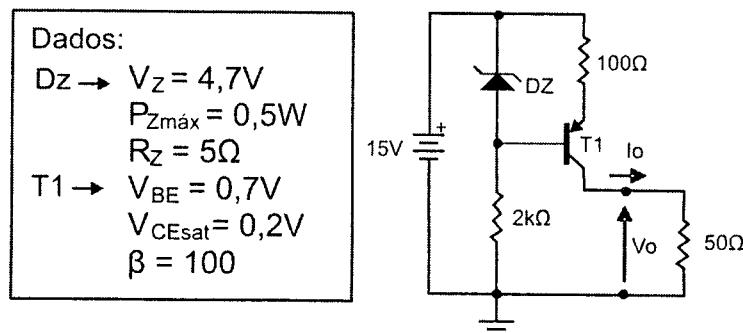


O tipo de realimentação utilizada nesse amplificador é

- A) corrente em paralelo.
- B) corrente em série.
- C) tensão em paralelo.
- D) tensão em série.

### Questão 42

Observe o seguinte circuito.



O valor **mais** próximo da corrente de saída  $I_o$  para esse circuito é

- A) 40 mA
- B) 67 mA
- C) 100 mA
- D) 192 mA



### Questão 43

Em relação aos projetos de instalação elétrica e de acordo com a NBR-5410, analise as seguintes afirmativas e assinale a alternativa **INCORRETA**.

- A) Num projeto de instalação elétrica, a carga a ser considerada para um equipamento é a potência nominal fornecida pelo equipamento (potência de saída).
- B) Em instalações que possuem fonte própria, o limite de queda de tensão é de 7%.
- C) Em instalações alimentadas diretamente por uma subestação de transformação, a partir de uma instalação de alta tensão, o limite de queda de tensão é de 7%.
- D) Em instalações alimentadas diretamente por um ramal de baixa tensão, a partir da rede de distribuição pública de baixa tensão, o limite de queda de tensão é de 5%.

### Questão 44

Em uma instalação elétrica cuja corrente de linha é de 200A com fator de potência 0,69 indutivo, foi feita a compensação do fator de potência tendo sido obtido o valor de 0,92 indutivo.

Considerando que a tensão na carga não alterou, o novo valor da corrente de linha será

- A) 150A
- B) 180A
- C) 200A
- D) 250A

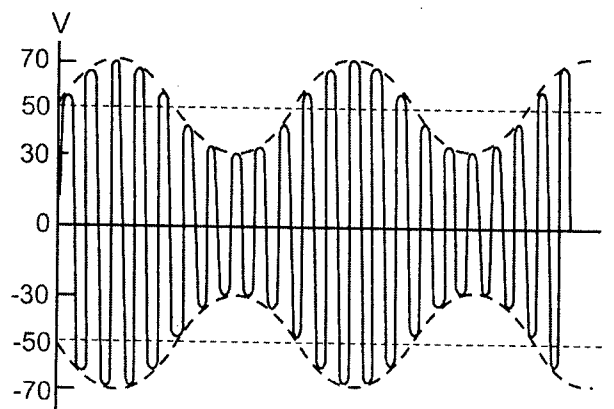
### Questão 45

Quanto às suas características de capacidade para armazenar dados e velocidade relativa de operação, a memória "cache" de um computador deve ser

- A) grande e lenta.
- B) grande e rápida.
- C) pequena e lenta.
- D) pequena e rápida.

### Questão 46

Na saída de um transmissor de AM, observou-se a forma de onda complexa apresentada na figura a seguir.



O índice de modulação usado no transmissor é

- A) 25%
- B) 30%
- C) 40%
- D) 50%

### Questão 47

Em relação às vantagens das redes corporativas baseadas no protocolo Ethernet, é **INCORRETO** afirmar que

- A) a configuração do *software* é simples.
- B) o custo da interface por PC é baixo.
- C) permitem mesclar diferentes *hardwares*.
- D) são fáceis de serem expandidas.

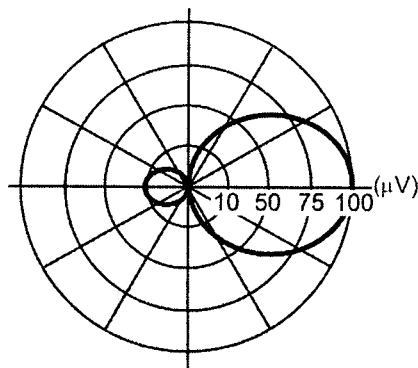
### Questão 48

As redes de telecomunicação via satélite, baseadas em sistemas VSAT, são vantajosas nas seguintes aplicações, **EXCETO**

- A) coleta de dados com interligação entre estações via conexões do tipo ponto a ponto ou ponto-multiponto.
- B) *gateway* internacional para telefonia IP e serviços adicionados.
- C) rede corporativa para interligar pontos de venda com curto prazo de instalação e custo reduzido.
- D) rede de telefonia e acesso à Internet nas localidades remotas.

### Questão 49

Uma antena apresenta o diagrama de radiação mostrado na figura a seguir.



Sua relação frente-costas é

- A) 10dB
- B) 15dB
- C) 20dB
- D) 25dB

### Questão 50

Considerando um enlace de dados interestadual de alta capacidade, baseado em fibras ópticas, assinale a alternativa que apresenta o principal fator limitante da capacidade de transmissão.

- A) Atenuação em função da distância
- B) Dispersão cromática na fibra
- C) Infra-estrutura disponível na rota
- D) Perdas nas emendas e terminações

### Questão 51

Satélites para telefonia celular são disponibilizados na forma de constelações, usando principalmente órbitas do tipo

- A) GEO.
- B) GEOSÍNCRONA.
- C) LEO.
- D) MEO.

### Questão 52

O comprimento da onda de radiofrequência de um enlace de dados corporativo é de 10 cm.

A faixa de operação, a frequência e o período da onda são, *respectivamente*,

- A) Microondas; 1GHz;  $3,3 \times 10^{-9}$ s
- B) SHF; 3GHz;  $10^{-10}$ s
- C) UHF; 300MHz;  $10^{-8}$ s
- D) UHF; 3GHz;  $3,3 \times 10^{-10}$ s

### Questão 53

A sinalização que oferece maior rapidez e capacidade na troca de dados entre centrais telefônicas modernas é denominada

- A) canal associado.
- B) canal comum.
- C) E&M pulsativa.
- D) R2 digital.

### Questão 54

No acesso final aos serviços de telecomunicação proporcionados por redes modernas, a rede HFC oferece as seguintes vantagens sobre a rede telefônica fixa, **EXCETO**

- A) imunidade superior para interferências irradiadas.
- B) maior banda passante disponibilizada para atender os diversos serviços.
- C) melhor preparação para convergência de informações.
- D) menores perdas na alimentação do terminal remoto.

### Questão 55

Uma nova infra-estrutura de telecomunicação para acesso final de voz e dados, baseada em sistema WLL, vai ser implantada em um centro empresarial composto de vários edifícios independentes.

As alternativas abaixo representam vantagens da solução usando WLL, em comparação com o acesso convencional via rede metálica, **EXCETO**

- A) menor custo fixo.
- B) menor reutilização.
- C) menor tempo para disponibilização.
- D) maior flexibilidade.

### Questão 56

O ganho real de velocidade obtido nos processadores modernos se deve, *principalmente*,

- A) à concorrência entre fabricantes dos chips.
- B) às mudanças nas suas arquiteturas internas.
- C) à redução nas tensões de alimentação.
- D) à redução no tamanho dos componentes.

### Questão 57

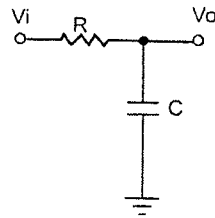
Um *minilink* de microondas vai ser instalado entre o prédio da Assembléia e o novo Centro Administrativo do Estado. Os dados de placa do transmissor indicam uma potência de saída de 1W sobre  $50\Omega$ . O transmissor é montado nas costas da sua antena, cujo ganho é de 15dBi. A atenuação do enlace foi simulada em um computador e estimada em 100dB.

O nível de sinal esperado no terminal remoto é

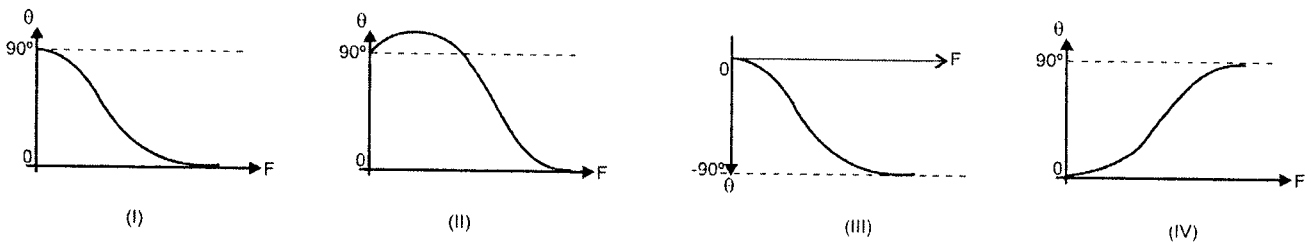
- A) -35dBm
- B) -45dBm
- C) -55dBm
- D) -65dBm

### Questão 58

Considere o seguinte circuito RC.



Analise os seguintes gráficos, considerando o circuito RC acima.



Indique o gráfico que representa sua resposta de fase em função da frequência.

- A) Gráfico (I)
- B) Gráfico (II)
- C) Gráfico (III)
- D) Gráfico (IV)

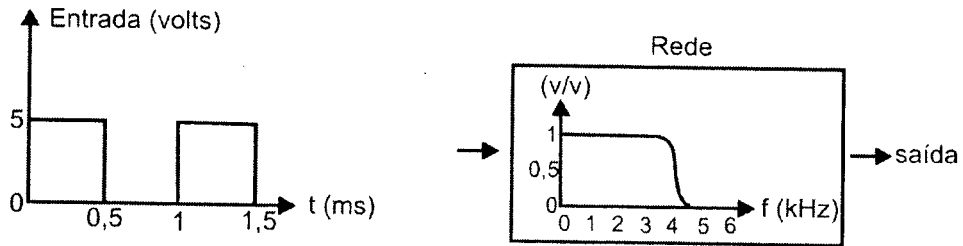
### Questão 59

A interligação de órgãos estaduais via redes corporativas permite que a administração estadual central supere os seguintes obstáculos organizacionais, **EXCETO**

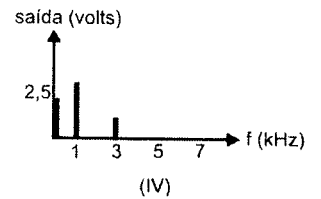
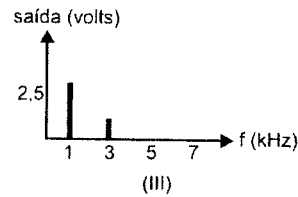
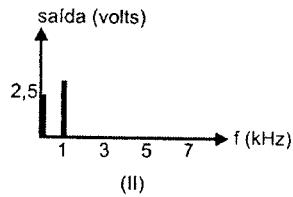
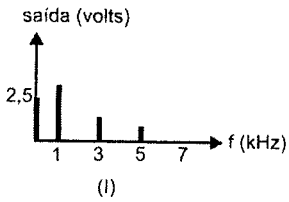
- A) facilitar a integração de órgãos e quebrar barreiras no sistema de segurança pública via compartilhamento de banco de dados.
- B) melhorar a administração de órgãos geograficamente dispersos através de redes HFC.
- C) melhorar a coleta e a transferência de dados de natureza fiscal via rede VSAT.
- D) reduzir níveis intermediários na administração gerencial através de redes LAN, MAN e WAN.

### Questão 60


Um trem de pulsos retangulares foi aplicado na entrada de uma rede elétrica cuja resposta no domínio da frequência está mostrada na figura abaixo.



Identifique o gráfico que representa a composição espectral do sinal na saída da rede e assinale a alternativa **CORRETA**.



- A) Gráfico (I)
- B) Gráfico (II)
- C) Gráfico (III)
- D) Gráfico (IV)





## FOLHA DE RESPOSTAS (RASCUNHO)

01	A	B	C	D
	<input type="checkbox"/>	<input type="checkbox"/>	<input type="checkbox"/>	<input type="checkbox"/>
02	A	B	C	D
	<input type="checkbox"/>	<input type="checkbox"/>	<input type="checkbox"/>	<input type="checkbox"/>
03	A	B	C	D
	<input type="checkbox"/>	<input type="checkbox"/>	<input type="checkbox"/>	<input type="checkbox"/>
04	A	B	C	D
	<input type="checkbox"/>	<input type="checkbox"/>	<input type="checkbox"/>	<input type="checkbox"/>
05	A	B	C	D
	<input type="checkbox"/>	<input type="checkbox"/>	<input type="checkbox"/>	<input type="checkbox"/>
06	A	B	C	D
	<input type="checkbox"/>	<input type="checkbox"/>	<input type="checkbox"/>	<input type="checkbox"/>
07	A	B	C	D
	<input type="checkbox"/>	<input type="checkbox"/>	<input type="checkbox"/>	<input type="checkbox"/>
08	A	B	C	D
	<input type="checkbox"/>	<input type="checkbox"/>	<input type="checkbox"/>	<input type="checkbox"/>
09	A	B	C	D
	<input type="checkbox"/>	<input type="checkbox"/>	<input type="checkbox"/>	<input type="checkbox"/>
10	A	B	C	D
	<input type="checkbox"/>	<input type="checkbox"/>	<input type="checkbox"/>	<input type="checkbox"/>
11	A	B	C	D
	<input type="checkbox"/>	<input type="checkbox"/>	<input type="checkbox"/>	<input type="checkbox"/>
12	A	B	C	D
	<input type="checkbox"/>	<input type="checkbox"/>	<input type="checkbox"/>	<input type="checkbox"/>
13	A	B	C	D
	<input type="checkbox"/>	<input type="checkbox"/>	<input type="checkbox"/>	<input type="checkbox"/>
14	A	B	C	D
	<input type="checkbox"/>	<input type="checkbox"/>	<input type="checkbox"/>	<input type="checkbox"/>
15	A	B	C	D
	<input type="checkbox"/>	<input type="checkbox"/>	<input type="checkbox"/>	<input type="checkbox"/>
16	A	B	C	D
	<input type="checkbox"/>	<input type="checkbox"/>	<input type="checkbox"/>	<input type="checkbox"/>
17	A	B	C	D
	<input type="checkbox"/>	<input type="checkbox"/>	<input type="checkbox"/>	<input type="checkbox"/>
18	A	B	C	D
	<input type="checkbox"/>	<input type="checkbox"/>	<input type="checkbox"/>	<input type="checkbox"/>
19	A	B	C	D
	<input type="checkbox"/>	<input type="checkbox"/>	<input type="checkbox"/>	<input type="checkbox"/>
20	A	B	C	D
	<input type="checkbox"/>	<input type="checkbox"/>	<input type="checkbox"/>	<input type="checkbox"/>

21	A	B	C	D
	<input type="checkbox"/>	<input type="checkbox"/>	<input type="checkbox"/>	<input type="checkbox"/>
22	A	B	C	D
	<input type="checkbox"/>	<input type="checkbox"/>	<input type="checkbox"/>	<input type="checkbox"/>
23	A	B	C	D
	<input type="checkbox"/>	<input type="checkbox"/>	<input type="checkbox"/>	<input type="checkbox"/>
24	A	B	C	D
	<input type="checkbox"/>	<input type="checkbox"/>	<input type="checkbox"/>	<input type="checkbox"/>
25	A	B	C	D
	<input type="checkbox"/>	<input type="checkbox"/>	<input type="checkbox"/>	<input type="checkbox"/>
26	A	B	C	D
	<input type="checkbox"/>	<input type="checkbox"/>	<input type="checkbox"/>	<input type="checkbox"/>
27	A	B	C	D
	<input type="checkbox"/>	<input type="checkbox"/>	<input type="checkbox"/>	<input type="checkbox"/>
28	A	B	C	D
	<input type="checkbox"/>	<input type="checkbox"/>	<input type="checkbox"/>	<input type="checkbox"/>
29	A	B	C	D
	<input type="checkbox"/>	<input type="checkbox"/>	<input type="checkbox"/>	<input type="checkbox"/>
30	A	B	C	D
	<input type="checkbox"/>	<input type="checkbox"/>	<input type="checkbox"/>	<input type="checkbox"/>
31	A	B	C	D
	<input type="checkbox"/>	<input type="checkbox"/>	<input type="checkbox"/>	<input type="checkbox"/>
32	A	B	C	D
	<input type="checkbox"/>	<input type="checkbox"/>	<input type="checkbox"/>	<input type="checkbox"/>
33	A	B	C	D
	<input type="checkbox"/>	<input type="checkbox"/>	<input type="checkbox"/>	<input type="checkbox"/>
34	A	B	C	D
	<input type="checkbox"/>	<input type="checkbox"/>	<input type="checkbox"/>	<input type="checkbox"/>
35	A	B	C	D
	<input type="checkbox"/>	<input type="checkbox"/>	<input type="checkbox"/>	<input type="checkbox"/>
36	A	B	C	D
	<input type="checkbox"/>	<input type="checkbox"/>	<input type="checkbox"/>	<input type="checkbox"/>
37	A	B	C	D
	<input type="checkbox"/>	<input type="checkbox"/>	<input type="checkbox"/>	<input type="checkbox"/>
38	A	B	C	D
	<input type="checkbox"/>	<input type="checkbox"/>	<input type="checkbox"/>	<input type="checkbox"/>
39	A	B	C	D
	<input type="checkbox"/>	<input type="checkbox"/>	<input type="checkbox"/>	<input type="checkbox"/>
40	A	B	C	D
	<input type="checkbox"/>	<input type="checkbox"/>	<input type="checkbox"/>	<input type="checkbox"/>

41	A	B	C	D
	<input type="checkbox"/>	<input type="checkbox"/>	<input type="checkbox"/>	<input type="checkbox"/>
42	A	B	C	D
	<input type="checkbox"/>	<input type="checkbox"/>	<input type="checkbox"/>	<input type="checkbox"/>
43	A	B	C	D
	<input type="checkbox"/>	<input type="checkbox"/>	<input type="checkbox"/>	<input type="checkbox"/>
44	A	B	C	D
	<input type="checkbox"/>	<input type="checkbox"/>	<input type="checkbox"/>	<input type="checkbox"/>
45	A	B	C	D
	<input type="checkbox"/>	<input type="checkbox"/>	<input type="checkbox"/>	<input type="checkbox"/>
46	A	B	C	D
	<input type="checkbox"/>	<input type="checkbox"/>	<input type="checkbox"/>	<input type="checkbox"/>
47	A	B	C	D
	<input type="checkbox"/>	<input type="checkbox"/>	<input type="checkbox"/>	<input type="checkbox"/>
48	A	B	C	D
	<input type="checkbox"/>	<input type="checkbox"/>	<input type="checkbox"/>	<input type="checkbox"/>
49	A	B	C	D
	<input type="checkbox"/>	<input type="checkbox"/>	<input type="checkbox"/>	<input type="checkbox"/>
50	A	B	C	D
	<input type="checkbox"/>	<input type="checkbox"/>	<input type="checkbox"/>	<input type="checkbox"/>
51	A	B	C	D
	<input type="checkbox"/>	<input type="checkbox"/>	<input type="checkbox"/>	<input type="checkbox"/>
52	A	B	C	D
	<input type="checkbox"/>	<input type="checkbox"/>	<input type="checkbox"/>	<input type="checkbox"/>
53	A	B	C	D
	<input type="checkbox"/>	<input type="checkbox"/>	<input type="checkbox"/>	<input type="checkbox"/>
54	A	B	C	D
	<input type="checkbox"/>	<input type="checkbox"/>	<input type="checkbox"/>	<input type="checkbox"/>
55	A	B	C	D
	<input type="checkbox"/>	<input type="checkbox"/>	<input type="checkbox"/>	<input type="checkbox"/>
56	A	B	C	D
	<input type="checkbox"/>	<input type="checkbox"/>	<input type="checkbox"/>	<input type="checkbox"/>
57	A	B	C	D
	<input type="checkbox"/>	<input type="checkbox"/>	<input type="checkbox"/>	<input type="checkbox"/>
58	A	B	C	D
	<input type="checkbox"/>	<input type="checkbox"/>	<input type="checkbox"/>	<input type="checkbox"/>
59	A	B	C	D
	<input type="checkbox"/>	<input type="checkbox"/>	<input type="checkbox"/>	<input type="checkbox"/>
60	A	B	C	D
	<input type="checkbox"/>	<input type="checkbox"/>	<input type="checkbox"/>	<input type="checkbox"/>

AO TRANSFERIR ESSAS MARCAÇÕES PARA A FOLHA DE RESPOSTAS, OBSERVE AS INSTRUÇÕES ESPECÍFICAS DADAS NA CAPA DA PROVA.

**USE CANETA ESFEROGRÁFICA AZUL OU PRETA.**

**ATENÇÃO:  
AGUARDE AUTORIZAÇÃO  
PARA VIRAR O CADERNO DE PROVA.**